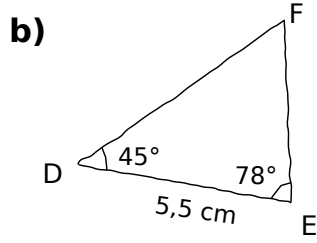
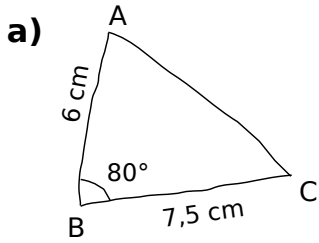


Exercice 1

Ces triangles sont tracés à main levée.
Construis-les en vraie grandeur.



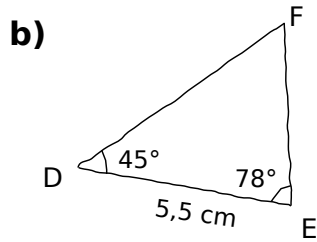
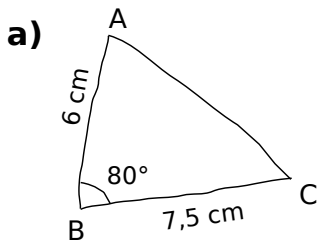
Exercice 2

a) Construire un triangle GHK tel que $GH = 7$ cm, $GK = 4$ cm et $\widehat{KGH} = 100^\circ$.

b) Construire un triangle RST tel que $\widehat{TSR} = 125^\circ$, $\widehat{RTS} = 20^\circ$ et $ST = 6$ cm.

Exercice 1

Ces triangles sont tracés à main levée.
Construis-les en vraie grandeur.



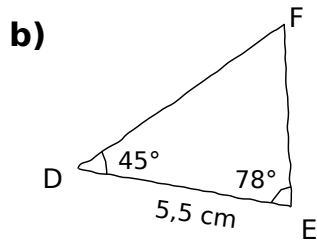
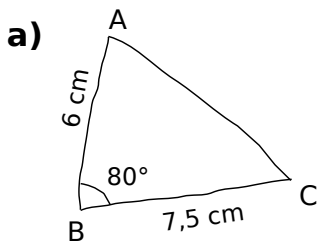
Exercice 2

a) Construire un triangle GHK tel que $GH = 7$ cm, $GK = 4$ cm et $\widehat{KGH} = 100^\circ$.

b) Construire un triangle RST tel que $\widehat{TSR} = 125^\circ$, $\widehat{RTS} = 20^\circ$ et $ST = 6$ cm.

Exercice 1

Ces triangles sont tracés à main levée.
Construis-les en vraie grandeur.



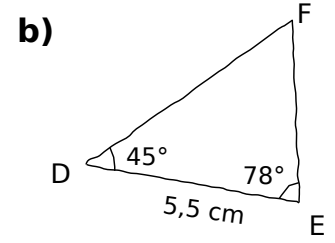
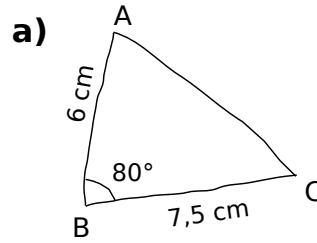
Exercice 2

a) Construire un triangle GHK tel que $GH = 7$ cm, $GK = 4$ cm et $\widehat{KGH} = 100^\circ$.

b) Construire un triangle RST tel que $\widehat{TSR} = 125^\circ$, $\widehat{RTS} = 20^\circ$ et $ST = 6$ cm.

Exercice 1

Ces triangles sont tracés à main levée.
Construis-les en vraie grandeur.



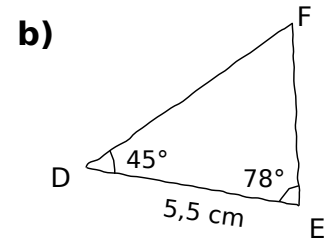
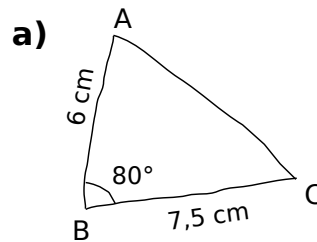
Exercice 2

a) Construire un triangle GHK tel que $GH = 7$ cm, $GK = 4$ cm et $\widehat{KGH} = 100^\circ$.

b) Construire un triangle RST tel que $\widehat{TSR} = 125^\circ$, $\widehat{RTS} = 20^\circ$ et $ST = 6$ cm.

Exercice 1

Ces triangles sont tracés à main levée.
Construis-les en vraie grandeur.



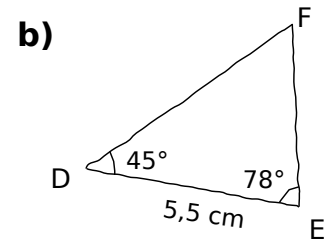
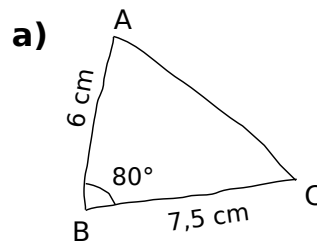
Exercice 2

a) Construire un triangle GHK tel que $GH = 7$ cm, $GK = 4$ cm et $\widehat{KGH} = 100^\circ$.

b) Construire un triangle RST tel que $\widehat{TSR} = 125^\circ$, $\widehat{RTS} = 20^\circ$ et $ST = 6$ cm.

Exercice 1

Ces triangles sont tracés à main levée.
Construis-les en vraie grandeur.



Exercice 2

a) Construire un triangle GHK tel que $GH = 7$ cm, $GK = 4$ cm et $\widehat{KGH} = 100^\circ$.

b) Construire un triangle RST tel que $\widehat{TSR} = 125^\circ$, $\widehat{RTS} = 20^\circ$ et $ST = 6$ cm.